

Nom :


Les solides

Classe :

/10

Exercice 1: A partir de la base suivante, construire un prisme droit ayant une hauteur de 4cm

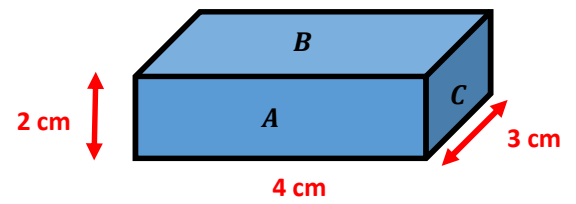
/5



Exercice 2: Dessiner avec les dimensions réelles, le patron du parallélépipède rectangle

/5

Faire figurer les lettres *A*, *B* et *C* sur le patron



Nom :

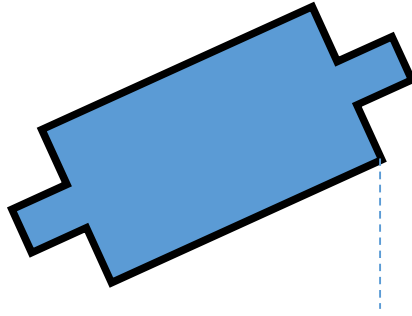
Les solides

Classe :

/10

Exercice 1: A partir de la base suivante, construire un prisme droit ayant une hauteur de 4cm

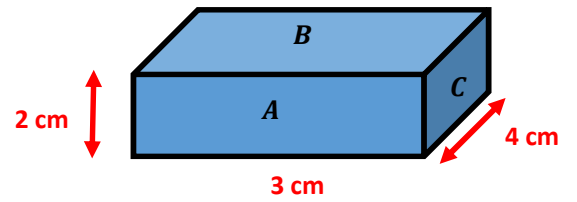
/5



Exercice 2: Dessiner avec les dimensions réelles, le patron du parallélépipède rectangle

/5

Faire figurer les lettres *A*, *B* et *C* sur le patron.



Nom :


Les solides

Classe :

/10

Exercice 1: A partir de la base suivante, construire un prisme droit ayant une hauteur de 4cm

/5



Exercice 2: Dessiner avec les dimensions réelles, le patron du parallélépipède rectangle

/5

Faire figurer les lettres *A*, *B* et *C* sur le patron.

